

## 2025年度入学者選抜

## 日本史試験問題

(2025年2月6日実施)

座席番号									
------	--	--	--	--	--	--	--	--	--

## [注意]

- 試験監督者の指示があるまで、問題冊子や筆記用具に触れてはいけません。触れた場合は、不正行為とみなすことがあります。
- 試験中の使用が認められたもの以外は、すべてカバンに収納すること。使用用具は、黒芯の鉛筆またはシャープペンシル、消しゴム、鉛筆削り（電動式・大型のもの・ハンドル付のものは不可、鉛筆使用者のみ）とし、それ以外の使用は認めません。
- 携帯電話、スマートフォン、イヤホン、ウェアラブル端末、電子辞書、ICレコーダーなどの電子機器類は、必ず電源を切ってから、カバンに収納すること。
- 試験開始の合図により、試験を始めてください。
- 解答は、すべて「解答用紙」の所定の欄に記入すること。
- 試験終了の合図とともに直ちに筆記用具を置くこと。試験終了後に解答用紙や筆記用具に触れた場合は、不正行為とみなすことがあります。試験監督者が指示するまで、絶対に席を立ってはいけません。
- 問題冊子および解答用紙は、試験終了後にすべて回収するので、持ち帰ってはいけません。

【1】 高校生のマナトさんは、戦争と人々の歴史について調べ学習の課題が出されたため、日本の対外戦争を教科書から抽出し、年表にまとめた。次の年表をみて、下の問い（問1～10）に答えなさい。（年表・史料は、一部省略したり、書き改めたりしたところもある。）

〈年表〉

年代	出来事	影響・結果など
391	朝鮮半島への出兵	・(a)中国吉林省にある碑文以外に史料がなく不明
663	白村江の戦い	・対馬・壱岐・筑紫に防人と烽の設置 ・大野城・基肆城など対馬から <input type="text" value="ア"/> にかけて朝鮮式山城設置
1019	(b)刀伊の来襲	・九州に武士団形成
1274 1281	モンゴル襲来	・博多湾沿岸に防塁（石築地）の設置 ・(c)鎮西探題の設置
1457	コシャマインの戦い	・蠣崎氏が <input type="text" value="イ"/> 氏に代わって道南の和人居住地の支配者となる
1592 1597	文禄の役 慶長の役	・朝鮮半島南部に倭城築城→国内城郭建築の発展に寄与 ・(d)連行した朝鮮人からさまざまな技術や学問を享受
1609	薩摩藩の琉球征服	・琉球王国が薩摩藩の支配下に置かれる
1669	シャクシャインの戦い	・アイヌが松前藩に服従→多くの商場でアイヌが不利になる
1863	薩英戦争	・薩摩藩の藩政方針転換
1874	台湾出兵	・イギリスの調停もあり、清から事実上の賠償金を獲得 →首里城へ軍隊を派遣→沖縄県の設置（1879）
	<input type="text" value="ウ"/>	・ <input type="text" value="エ"/>
1894 ～95	日清戦争	・軍備拡張の推進による工業の発展 ・台湾の植民地化→軍事力による抵抗運動の鎮圧（～1915）
1904 ～05	日露戦争	・日本国内での大幅な増税 ・韓国に対する日本の指導・監督権をロシアに認めさせる
1914 ～18	第一次世界大戦	・(e)東アジア・太平洋地域における日本の勢力拡大 ・輸出超過にともなう大戦景気
	<input type="text" value="オ"/>	・ <input type="text" value="カ"/>
1937 ～45	日中戦争	・総力戦体制の構築 ・(f)アメリカからの経済制裁 ・「皇民化」政策の強化
1941 ～45	太平洋戦争	・大東亜共栄圏の結束を誇示 ・国民徴用の強化 ・戦争激化にともなう国民生活の圧迫

問1 年表中の空欄  ・  に入る語句の組合せとして最も適当なものを、次の①～④のうちから一つ選びなさい。

- ① ア－陸奥      イ－尚                      ② ア－陸奥      イ－安藤（安東）  
③ ア－大和      イ－尚                      ④ ア－大和      イ－安藤（安東）

問2 年表中の空欄  には出来事が、空欄  にはその影響・結果などが入る。年表の時期に対応した出来事と影響・結果などの組合せとして最も適当なものを、次の①～④のうちから一つ選びなさい。

- ① ウ－甲午農民戦争      エ－日本も含めた8カ国連合軍が鎮圧  
② ウ－甲申事変              エ－朝鮮で親日政権が成立→日本の影響力が拡大  
③ ウ－壬午軍乱              エ－清国軍が鎮圧→朝鮮で清国の影響力が拡大  
④ ウ－北清事変              エ－北京に公使館守備隊の駐留を承認させる

問3 年表中の空欄  には出来事が、空欄  にはその影響・結果などが入る。年表の時期に対応した出来事と影響・結果などの組合せとして最も適当なものを、次の①～④のうちから一つ選びなさい。

- ① オ－シベリア出兵      カ－米価急落をまねき、米騒動が勃発  
② オ－山東出兵              カ－国民革命軍と武力衝突  
③ オ－満洲事変              カ－満洲軍閥の張作霖と対立  
④ オ－華北分離工作      カ－中華民国で第1次国共合作が成立

問4 下線部(a)の一部を記した次の史料1から読み取れる内容に関して述べた文として誤っているものを、下の①～④のうちから一つ選びなさい。 4

史料1

百残<sup>(注1)</sup>・新羅は旧是れ属民なり。由来朝貢す。而るに倭、辛卯の年<sup>(注2)</sup>よりこのかた、海を渡りて百残を破り、新羅を□□し、以て臣民と為す。六年丙申<sup>(注3)</sup>を以て、王躬<sup>みづか</sup>ら水軍を率ゐる、残国<sup>(注1)</sup>を討科す。(中略)残王<sup>こんひつ</sup>困逼し、男女生口<sup>せいこう</sup>一千人・細布千匹を献出し、王に帰して自ら誓ふ、今より以後、永く奴客<sup>(注4)</sup>と為らんと。(中略)九年己亥<sup>(注5)</sup>、百残、誓に違ひ、倭と和通す。王、平穰を巡下す。而るに新羅、使を遣はして王に白<sup>い</sup>ひて云く、「倭人、其の国境に満ち、城池<sup>かいほ</sup>を潰破し、奴客を以て民と為せり。王に帰して命を請はむ」と。(中略)十年庚子<sup>(注6)</sup>、歩騎五万を教遣し、往きて新羅を救はしむ。(中略)十四年甲辰<sup>(注7)</sup>、而るに倭、不軌<sup>(注8)</sup>にして帯方<sup>たいほう</sup>の界に侵入す。(中略)倭寇<sup>かいはい</sup>潰敗す。

(「広開土王(好太王)碑文」)

(注1) 百残・残国：ともに百済のこと。

(注2) 辛卯の年：391年。

(注3) 六年丙申：396年。

(注4) 奴客：臣下として隷属すること。

(注5) 九年己亥：399年。

(注6) 十年庚子：400年。

(注7) 十四年甲辰：404年。

(注8) 不軌：そむくこと。

- ① 高句麗では、十干・十二支を用いて年を表していた。
- ② 百済は高句麗との誓約を破り、倭と友好関係を築いた。
- ③ 新羅は高句麗と同盟関係にあったため、倭の侵攻を全く受けなかった。
- ④ 高句麗軍は倭軍と交戦し、倭軍を打ち破った。

問5 下線部(b)に関連して、刀伊の来襲の背景にある国際情勢に関して述べた次の文X・Yの正誤の組合せとして最も適当なものを、下の①～④のうちから一つ選びなさい。 5

X 遼(契丹)と日本は、正式な国交を持たなかった。

Y 刀伊とは、沿海州地方に住む女真人のことで、遼(契丹)の支配下に置かれていた。

- ① X - 正      Y - 正                                      ② X - 正      Y - 誤
- ③ X - 誤      Y - 正                                      ④ X - 誤      Y - 誤



問8 下線部(e)に関連して、次の史料2・3は第一次世界大戦当時の日本の勢力拡大を示すものである。史料中の空欄  ・  に入る地名と、地図中に示した場所 a～d との組合せとして最も適当なものを、下の①～④のうちから一つ選びなさい。

史料2

陥落が吾輩の予想より遥かに早かりしは、同時に戦争の不幸のまた意外に少なりし意味において、国民と共に深く喜ぶ処なり。しかれども、かくて我が軍の手に帰せる  は、結局いかに処分するを以て、最も得策となすべきか。これ実に最も熟慮を要する問題なり。

この問題に対する吾輩の立場は明白なり。アジア大陸に領土を拡張すべからず、満洲も宜しく早きに<sup>およ</sup>迫んでこれを放棄すべし、とはこれ吾輩の宿論なり。

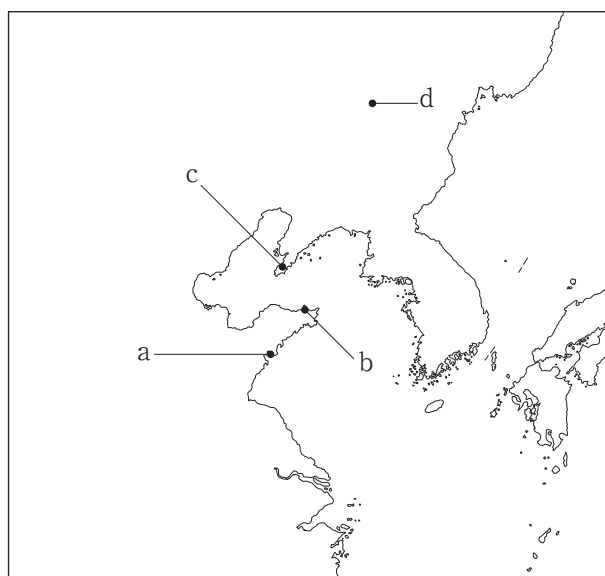
(『石橋湛山全集』)

史料3

第二号 日本国政府及支那国政府ハ支那国政府カ南満洲及東部内蒙古ニ於ケル日本国ノ優越ナル地位ヲ承認スルニヨリ、<sup>ここ</sup>茲ニ左ノ条款ヲ締約セリ

第一条 両締約国ハ、旅順  租借期限 <sup>ならびに</sup> 並 南満洲及安奉両鉄道各期限ヲ何レモ更ニ<sup>いず</sup>九十九ヶ年ツツ延長スヘキコトヲ約ス

(『日本外交文書』)



- |         |       |         |       |
|---------|-------|---------|-------|
| ① X - a | Y - c | ② X - a | Y - d |
| ③ X - b | Y - c | ④ X - b | Y - d |

問9 下線部(f)に関連して、日中戦争中の日本に対するアメリカの経済制裁に関して述べた次の文Ⅰ～Ⅲを、古いものから年代順に正しく配列したものを、下の①～⑥のうちから一つ選びなさい。 9

- Ⅰ 日本の中国侵略に抗議して、日米通商航海条約の廃棄を日本側に通告した。
- Ⅱ 日本の南部仏印進駐に対して、在米日本資産を凍結した。
- Ⅲ 日独伊三国同盟の調印に対抗して、航空機用ガソリン・くず鉄の対日輸出禁止の措置をとった。

- ① Ⅰ－Ⅱ－Ⅲ      ② Ⅰ－Ⅲ－Ⅱ      ③ Ⅱ－Ⅰ－Ⅲ
- ④ Ⅱ－Ⅲ－Ⅰ      ⑤ Ⅲ－Ⅰ－Ⅱ      ⑥ Ⅲ－Ⅱ－Ⅰ

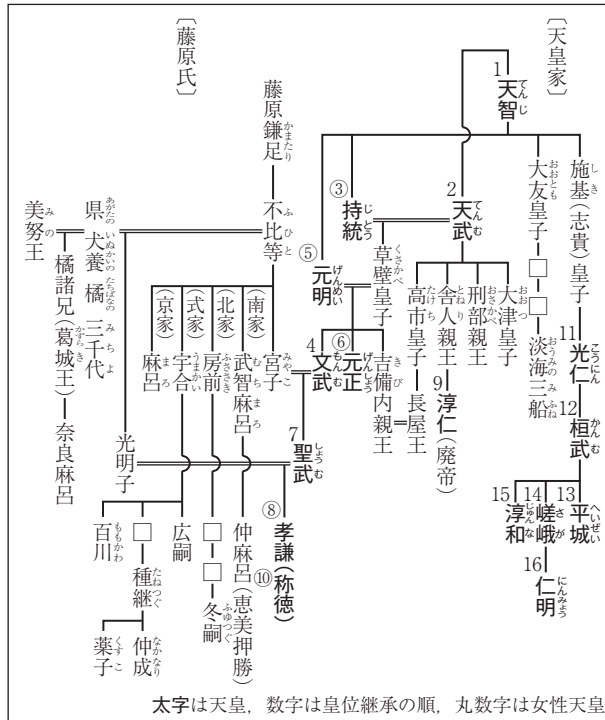
問10 日本が支配してきた周辺地域に関して述べた次の文a～dについて、年表をふまえて、正しいものの組合せを、下の①～④のうちから一つ選びなさい。 10

- a 蝦夷ヶ島では徐々に日本の支配が進展し、15世紀にはその全域が支配下に入った。
- b 琉球は17世紀には間接的に日本の支配下に入り、19世紀には併合された。
- c 近代に植民地化された台湾は、韓国併合までには抵抗運動が鎮圧されていた。
- d 近代に植民地化された朝鮮では、日中戦争以降、「皇民化」政策が強化された。

- ① a・c      ② a・d      ③ b・c      ④ b・d

【2】 高校生のレイさんは、古代・中世の皇統に関心を持ち、系図A・BをもとにメモA・Bを作成した。系図A・BとメモA・Bを参照して、下の問い（問1～10）に答えなさい。（史料は、一部省略したり、書き改めたりしたところもある。）

系図A



メモA

- ・(a)天智天皇の子で即位した天皇は、すべて女性であった。
- ・(b)天武天皇の子は即位しなかった。
- ・孝謙天皇は、のちに重祚して(c)称徳天皇となった。
- ・光仁天皇は聖武の娘井上内親王の婚であり、二人の間に生まれた他戸親王が皇太子であったが、政変の後、他戸親王は皇太子を廃され、代わって皇太子となった山部親王がのちに(d)桓武天皇として即位した。

問1 下線部(a)に関連して、天智天皇の子のうち即位した二人の天皇の政策に関して述べた次の文 a～d について、正しいものの組合せを、下の①～④のうちから一つ選びなさい。 11

- a 持統天皇は、はじめて律と令を体系的に施行した。
- b 持統天皇は、はじめて条坊制による京域を持つ都に遷都した。
- c 元明天皇は、はじめて山背国に造営された都に遷都した。
- d 元明天皇は、はじめて出羽国を設置した。

- ① a・c                      ② a・d                      ③ b・c                      ④ b・d







問7 下線部(f)に関連して、後醍醐天皇の政治に関して述べた次の文X・Yと、それに該当するa～dとの組合せとして最も適当なものを、下の①～④のうちから一つ選びなさい。 17

X 後醍醐天皇は、地方を統治するため、武士を重用した機構をつくった。

Y 後醍醐天皇の政治は社会の混乱をまねいたため、その混乱ぶりが風刺された。

a 東北に陸奥將軍府を設置した。      b 東北に奥州総奉行を設置した。

c 阿氏河莊民の訴状                      d 二条河原落書

① X - a      Y - c

② X - a      Y - d

③ X - b      Y - c

④ X - b      Y - d

問8 下線部(g)に関連して、足利氏に関して述べた次の文I～IIIを、古いものから年代順に正しく配列したものを、下の①～⑥のうちから一つ選びなさい。 18

I 將軍足利義輝が、三好氏の家臣たちに暗殺された。

II 青蓮院門跡義円が還俗して、足利義教として將軍に就いた。

III 足利義政の兄である足利政知が、幕府により鎌倉公方として派遣された。

① I - II - III

② I - III - II

③ II - I - III

④ II - III - I

⑤ III - I - II

⑥ III - II - I



【3】 近世・近代における美術について述べた次の文章A・Bを読み、下の問い（問1～10）に答えなさい。（史料は、一部省略したり、書き改めたりしたところもある。）

A 17世紀後半、<sup>(a)</sup>紙の生産や出版・印刷の技術、流通が発展するなか、町絵師によって美人・役者などを題材とした浮世絵が確立された。都市の風俗を描いた浮世絵は<sup>(b)</sup>町人社会に受容され、その需要の増加にともなって、肉筆画に加え、安価な一枚物の木版画が大量につくられるようになった。当初、浮世絵版画は墨一色であったが、のちには<sup>(c)</sup>染料の生産にも支えられて色刷りも行われた。18世紀半ばには、町絵師の  が一枚刷りの多色刷浮世絵版画である錦絵を創始して、浮世絵黄金時代の先駆となり、<sup>(d)</sup>寛政期には、多くの美人画を描いた喜多川歌麿や、役者絵・相撲絵を描いた東洲斎写楽らが、大首絵の手法を駆使してさまざまな作品を生み出した。19世紀に<sup>(e)</sup>民衆の旅が一般化すると、錦絵の風景画が流行し、歌川広重の『東海道五十三次』で描かれた、東海道の風景や  の様子は旅の案内書として活用されることもあった。開国後、明治時代になっても錦絵はさかんに描かれ、西洋画家にも影響を与えた。

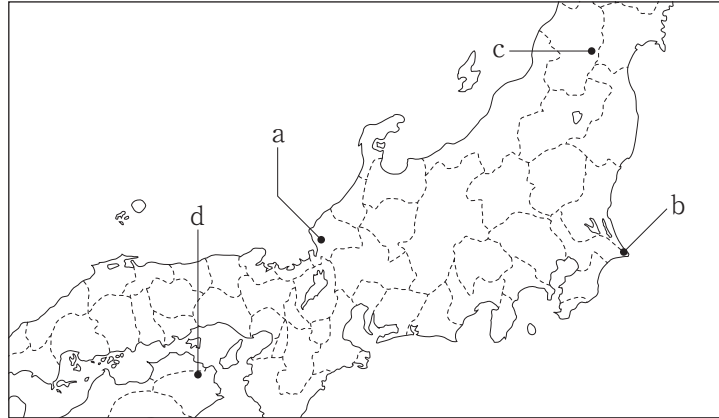
問1 文章中の空欄  ・  に入る語句の組合せとして最も適当なものを、次の①～④のうちから一つ選びなさい。

- |          |       |          |       |
|----------|-------|----------|-------|
| ① アー鈴木春信 | イー寺内町 | ② アー鈴木春信 | イー宿場町 |
| ③ アー菱川師宣 | イー寺内町 | ④ アー菱川師宣 | イー宿場町 |

問2 下線部(a)・(c)に関連して、江戸時代の紙と染料に関して述べた次の文X・Yと、地図中に示した場所a～dとの組合せとして正しいものを、下の①～④のうちから一つ選びなさい。 22

X 幕府奉書に用いられた最高級の紙は、この地で生産された。

Y 浮世絵版画のうち、紅絵の絵の具には、この地で生産された紅花が使用された。



- |         |       |         |       |
|---------|-------|---------|-------|
| ① X - a | Y - c | ② X - a | Y - d |
| ③ X - b | Y - c | ④ X - b | Y - d |

問3 下線部(b)に関連して、次の史料は、西川如見の『町人囊』の一部である。この史料や史料から読み取れる内容などに関して述べた文として誤っているものを、下の①～④のうちから一つ選びなさい。 23

いにしへは百姓より町人は下座<sup>(注1)</sup>なりといへども、いつの頃よりか天下金銀づかひとなりて、天下の金銀財宝みな町人の方に主さどれる事にて、貴人の御前へも召出さるゝ事もあれば、いつとなく其品<sup>(注2)</sup>百姓の上にあるに似たり。況や百年以来は天下静謐<sup>(注3)</sup>の御代なる故、儒者、医者、歌道者、茶湯風流の諸芸者、多くは町人の中より出来<sup>いできた</sup>る事になりぬ。

(『町人囊』)

(注1) 下座：身分が低い。

(注2) 品：身分格式。

(注3) 百年以来は天下静謐：(豊臣氏滅亡以来) 100年ほど世のなかが平和で治まっている。

- ① この史料は、18世紀前半にまとめられたものと考えられる。
- ② 当時の町人社会は、貨幣経済が浸透していた。
- ③ 当時の町人身分は実態からも百姓より下であった。
- ④ 儒者・医者や芸能者の多くは元々町人であった。



問7 下線部(f)に関連して、美術の発達の背景には、政府の教育政策があった。明治期における教育政策に関して述べた次の文Ⅰ～Ⅲを、古いものから年代順に正しく配列したものを、下の①～⑥のうちから一つ選びなさい。 27

- Ⅰ 文部大臣森有礼のもとで、学校体系を整備した、いわゆる学校令が公布された。
- Ⅱ アメリカの教育制度を参考にした地方分権的な教育令が公布された。
- Ⅲ フランスの学校制度にならった統一的な学制が公布された。

- ① Ⅰ－Ⅱ－Ⅲ      ② Ⅰ－Ⅲ－Ⅱ      ③ Ⅱ－Ⅰ－Ⅲ
- ④ Ⅱ－Ⅲ－Ⅰ      ⑤ Ⅲ－Ⅰ－Ⅱ      ⑥ Ⅲ－Ⅱ－Ⅰ

問8 下線部(g)に関連して、明治期の西洋美術団体に関して述べた次の文X・Yと、それに該当する語句a～dとの組合せとして最も適当なものを、下の①～④のうちから一つ選びなさい。 28

- X 日本初の西洋美術団体であり、浅井忠らによって結成された。
- Y フランスから帰国した黒田清輝ら外光派を中心に結成された。

a 日本美術院      b 明治美術会      c 二科会      d 白馬会

- ① X－a      Y－c      ② X－a      Y－d
- ③ X－b      Y－c      ④ X－b      Y－d

問9 下線部(h)に関連して、第1次西園寺公望内閣の政策に関して述べた文として最も適当なものを、次の①～④のうちから一つ選びなさい。 29

- ① 貨幣法を制定し、欧米諸国にならった金本位制を採用した。
- ② 陸軍の2個師団増設の要求を財政上困難として拒否した。
- ③ 外貨節約と戦時の軍用船確保のために、造船奨励法を公布した。
- ④ 全国鉄道網の統一的な管理をめざして、鉄道国有法を公布した。



問10 下線部(i)に関連して、日本銀行設立などの松方財政が農村に与えた影響に関して述べた次の文

a～dについて、正しいものの組合せを、下の①～④のうちから一つ選びなさい。 

30
----

- a 多くの農民は、インフレーションによって物価の高騰に苦しんだ。
- b 多くの農民は、デフレーションによって定額地租の負担に苦しんだ。
- c 自作農のなかには、土地を手放して小作農に転落する者もみられた。
- d 日本農民組合の指導のもと、小作料引下げを求める小作争議が頻発した。

① a・c

② a・d

③ b・c

④ b・d

【4】 近現代の外国為替相場について述べた次の文章A・Bを読み、下の問い（問1～10）に答えなさい。（史料は、一部省略したり、書き改めたりしたところもある。）

A 寺内正毅内閣時の金輸出禁止以来、外国為替相場は動揺と下落を繰り返した。特に関東大震災後の動揺は激しく、大幅な円安傾向となった。その後も、(a)金融恐慌があり、なかなか為替相場が安定しなかったが、(b)浜口雄幸内閣が金輸出解禁を実施すると為替相場は安定した。このとき、為替相場の実勢は100円＝46.45ドル前後であったが、(c)浜口内閣はあえて100円＝49.845ドルの旧平価で解禁したので、円の切上げとなった。しかし、1931年にイギリスが金本位制を離脱すると、三井などの財閥系銀行や外国銀行は、円売り・ドル買いを進め、円の為替相場の維持を困難にした。その結果、(d)犬養毅内閣では、再び金輸出が禁止され、ついで円の金兌換も停止されたため、日本も金本位制から離脱し、管理通貨制度に移行した。以後、円相場は大幅に下落し、これを利用して  など、飛躍的に輸出をのばした産業もみられた。

問1 文章中の空欄  に入る記述として最も適当なものを、次の①～④のうちから一つ選びなさい。

- ① 生糸の輸出が世界第1位となる
- ② 綿織物の輸出が世界第1位となる
- ③ 綿糸輸出量が綿糸輸入量を上回る
- ④ 綿花輸出量が綿花輸入量を上回る

問2 下線部(a)に関して述べた次の文X・Yの正誤の組合せとして最も適当なものを、下の①～④のうちから一つ選びなさい。

X 金融恐慌は、大蔵大臣の失言をきっかけに生じた、兌換銀行券を発行していた国立銀行への取付け騒ぎが発端となった。

Y 金融恐慌は、田中義一内閣が3週間の支払猶予令を発して、日本銀行から巨額の救済融資を行ったことで鎮静化した。

- ① X - 正      Y - 正                                      ② X - 正      Y - 誤
- ③ X - 誤      Y - 正                                      ④ X - 誤      Y - 誤

問3 下線部(b)に関連して、次の史料は当時の大蔵大臣が述べた内容の一部である。この史料に関して述べた下の文a～dについて、正しいものの組合せを、下の①～④のうちから一つ選びなさい。

33

金の輸出禁止の為に、我財界が斯くの如く不安定になって居りますから、一日も速かに金解禁を施行しなければならぬのであります。併しながら今日の現状の儘<sup>まま</sup>では金の解禁は出来ないであります。(中略) 然らばどうして金の解禁をすることが出来るかと申しますと、用意が要ります。(中略) 政府は財政を緊縮する、其の態度を国民が理解して国民も消費節約をなし、国民も緊張しますれば、茲<sup>こゝ</sup>に物価も下る大勢が出て来る。輸入も減るだけの状態になります。さうなると、為替相場もずっと上って参ります。(中略) 今日、日本の経済界は不安定であります。斯かる時期に金解禁の準備として、政府は財政を緊縮し、国民一般は消費を節約したならば、物価は下落して一層不景気<sup>もちきた</sup>を持来すこともありませうが、併しながら今日の状態は、全く先の見えぬ不景気<sup>い</sup>であります。何時<sup>いつ</sup>恢復<sup>かいふく</sup>するか見据<sup>みすえ</sup>のつかぬ不景気<sup>い</sup>であります。此の儘に差置けば益々深みへ陥る不景気<sup>い</sup>であります。吾々はどうかして之れを打開しなければならぬと考へるのであります。

- a この史料の内容を述べた大蔵大臣は、井上準之助である。
- b この史料の内容を述べた大蔵大臣は、高橋是清である。
- c この史料から、政府は金解禁の断行には国民の協力が必要と考えていたとわかる。
- d この史料から、政府は緊縮財政による一層の不景気を予想できなかったとわかる。

- ① a・c                      ② a・d                      ③ b・c                      ④ b・d

問4 下線部(c)に関連して、浜口雄幸内閣が旧平価で解禁した理由に関して述べた文として誤っているものを、次の①～④のうちから一つ選びなさい。

34

- ① 貨幣法の改正をしないですむため。
- ② 円の国際的な信用を落とさないようにするため。
- ③ 生産性の低い不良企業を整理・淘汰<sup>とうた</sup>するため。
- ④ 元老・枢密院の同意を取りつけるため。

問5 下線部(d)に関連して、犬養毅内閣での出来事に関して述べた次の文X・Yと、それへの政府の対応や影響 a～d との組合せとして最も適当なものを、下の①～④のうちから一つ選びなさい。

35

X 関東軍はリットン調査団の満洲到着前に、溥儀を執政として満洲国建国を宣言させた。  
 Y 海軍青年将校の一団が首相官邸におし入り、犬養毅首相を射殺する事件がおこった。

- a 犬養内閣は満洲国を承認した。      b 犬養内閣は満洲国の承認に消極的であった。  
 c 既成政党は解散した。                      d 政党内閣は崩壊した。

- ① X - a      Y - c                                  ② X - a      Y - d  
 ③ X - b      Y - c                                  ④ X - b      Y - d

B 1948年、GHQは、第2次吉田茂内閣に対して、経済安定九原則の実行を指令し、これを実施させるために、デトロイト銀行頭取 イ が特別公使として日本に派遣された。第3次吉田内閣は、イ の要求に従い、赤字を許さない超均衡予算を編成して、<sup>(e)</sup>復興金融金庫からの融資を停止させるとともに、国際競争のなかで輸出振興をはかって、<sup>(f)</sup>1ドル=360円の単一為替レートを設定し、日本経済を国際経済に直結させた。この時に設定されたレートは、1971年にアメリカの ウ 大統領が、<sup>(g)</sup>金・ドル交換停止とともに、各国に自国通貨とドルとの交換比率の変更を要請したことをきっかけに、変更を余儀なくされた。当初は固定相場制の維持が試みられたが、最終的には1973年に変動相場制へと移行した。さらに、1985年にはアメリカが貿易赤字を縮小するため、5カ国大蔵大臣（財務大臣）・中央銀行総裁会議で、ドル高是正の政策協調を求めたため、1ドル=230円台から、2年半で1ドル=120円台まで円高が進んだ。この影響で、日本では一時的な円高不況がみられたが、内需に主導されて景気は回復した。この内需景気は、株価や地価の暴騰をともなって進行し、<sup>(h)</sup>バブル経済につながった。

問6 文章中の空欄 イ ・ ウ に入る語句の組合せとして最も適当なものを、次の①～④のうちから一つ選びなさい。

36

- ① イーどッジ      ウーレーガン                      ② イーどッジ      ウーニクソン  
 ③ イーロイヤル      ウーレーガン                      ④ イーロイヤル      ウーニクソン

問7 下線部(e)に関連して、復興金融金庫からの融資をめぐって生じた事件に関して述べた文として最も適当なものを、次の①～④のうちから一つ選びなさい。 37

- ① 国鉄総裁下山定則が常磐線の綾瀬駅付近で死体で発見された怪死事件がおきた。
- ② 化学肥料をつくる昭和電工の社長が、政界を巻き込んだ贈収賄事件をおこした。
- ③ リクルートコスモス社の未公開株が、政界や官界に譲渡される事件がおきた。
- ④ アメリカのロッキード社の航空機売込みをめぐって、贈収賄事件がおきた。

問8 下線部(f)に関連して、為替レートが1ドル=360円の時期におきた出来事に関して述べた次の文Ⅰ～Ⅲを、古いものから年代順に正しく配列したものを、下の①～⑥のうちから一つ選びなさい。 38

- Ⅰ 経済企画庁が『経済白書』に「もはや戦後ではない」と記した。
- Ⅱ IMF 8条国に移行し、為替の自由化が義務づけられた。
- Ⅲ 朝鮮戦争が始まると、アメリカ軍による膨大な特需が発生した。

- ① Ⅰ－Ⅱ－Ⅲ      ② Ⅰ－Ⅲ－Ⅱ      ③ Ⅱ－Ⅰ－Ⅲ
- ④ Ⅱ－Ⅲ－Ⅰ      ⑤ Ⅲ－Ⅰ－Ⅱ      ⑥ Ⅲ－Ⅱ－Ⅰ

問9 下線部(g)に関連して、その背景となった、当時のアメリカが抱えていた事情などに関して述べた次の文a～dについて、正しいものの組合せを、下の①～④のうちから一つ選びなさい。 39

- a 日本や西ドイツなどによる対米輸出が急増し、貿易赤字が拡大していた。
- b 国内産業の空洞化や、国家財政と国際収支の「双子の赤字」に苦しんでいた。
- c 長期化し泥沼化したベトナム戦争にともなう軍事支出が膨張していた。
- d ソ連のアフガニスタン侵攻から始まった新冷戦にともなう軍事支出が膨張していた。

- ① a・c      ② a・d      ③ b・c      ④ b・d

問10 下線部(h)に関連して、バブル経済に関して述べた次の文X・Yの正誤の組合せとして最も適切なものを、下の①～④のうちから一つ選びなさい。 40

X バブル経済の背景には、超低金利政策のもとで、金融機関や企業でだぶついた資金が不動産市場や株式市場に流入したことがあげられる。

Y バブル経済崩壊後、輸出競争力の低下や個人消費の低迷による内需の不振などにより不況が深刻化した。

① X - 正      Y - 正

② X - 正      Y - 誤

③ X - 誤      Y - 正

④ X - 誤      Y - 誤

# 日本史(20250206) 解答一覧

大問	問	解答欄	正解
【1】	1	1	④
	2	2	③
	3	3	②
	4	4	③
	5	5	①
	6	6	③
	7	7	④
	8	8	①
	9	9	②
	10	10	④
【2】	1	11	④
	2	12	②
	3	13	①
	4	14	①
	5	15	①
	6	16	②
	7	17	②
	8	18	④
	9	19	③
	10	20	③
【3】	1	21	②
	2	22	①
	3	23	③
	4	24	③
	5	25	②
	6	26	④
	7	27	⑥
	8	28	④
	9	29	④
	10	30	③

大問	問	解答欄	正解
【4】	1	31	②
	2	32	③
	3	33	①
	4	34	④
	5	35	④
	6	36	②
	7	37	②
	8	38	⑤
	9	39	①
	10	40	①